



Name:



Datum:

1. Rechne und zeichne!



_____ $48 + 26 =$

2. Rechne und zeichne!



_____ $87 - 69 =$

3. Löse die Aufgaben!

$57 + 8 =$ _____ $74 + 20 =$ _____ $23 + 36 =$ _____ $46 + 28 =$ _____

4. Löse die Aufgaben!

$73 - 6 =$ _____ $57 - 30 =$ _____ $48 - 23 =$ _____ $73 - 48 =$ _____

5. Löse die Platzhalteraufgaben!

_____ + 8 = 74

56 + _____ = 63

_____ - 7 = 78

84 - _____ = 78

Zeit: _____

Probleme bereitet dir noch ...

das Zeichnen von Aufgaben

ZE + E mit Übergang

ZE – E mit Übergang

ZE + Z

ZE – Z

ZE + ZE ohne Übergang

ZE – ZE ohne Übergang

ZE + ZE mit Übergang

ZE - ZE mit Übergang

die Aufgaben zügig zu lösen

Du hast _____

Aufgaben richtig

gelöst!

